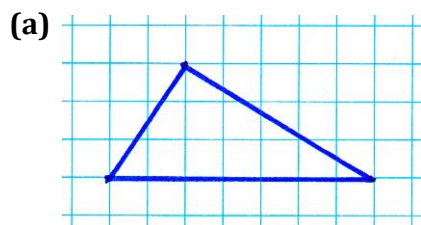


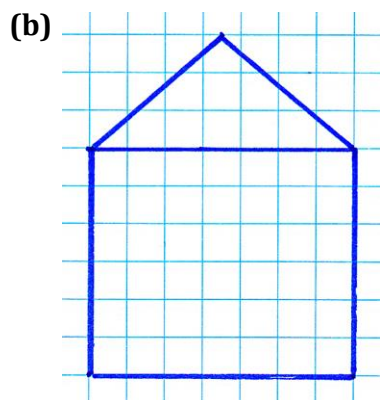
TÉMA: Síkidomok területe

NÉV:

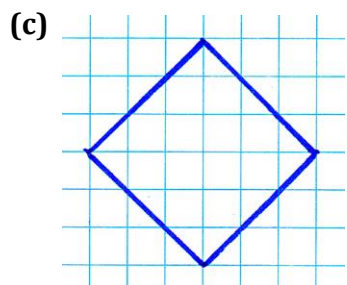
(1) A szükséges adatok megmérése után számítsd ki a következő síkidomok területét, ha egy négyzetoldal 0,5 cm! Számológépet NEM használhatsz!



Adatok:



Adatok:

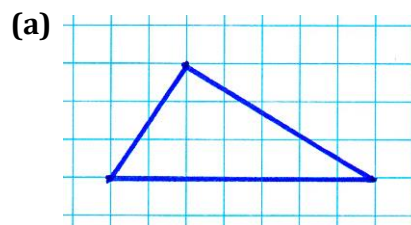


Adatok:

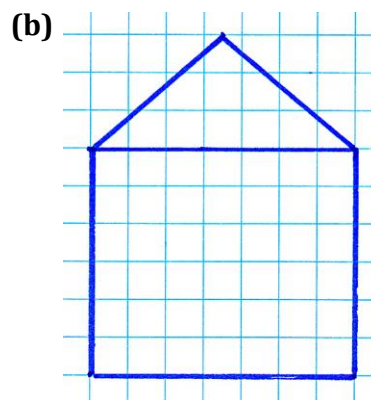
TÉMA: Síkidomok területe

NÉV:

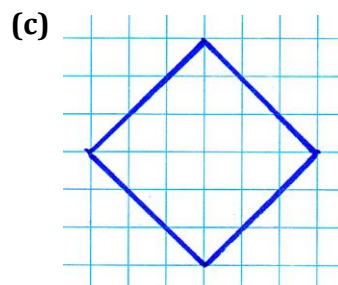
(1) A szükséges adatok megmérése után számítsd ki a következő síkidomok területét, ha egy négyzetoldal 0,5 cm! Számológépet NEM használhatsz!



Adatok:



Adatok:



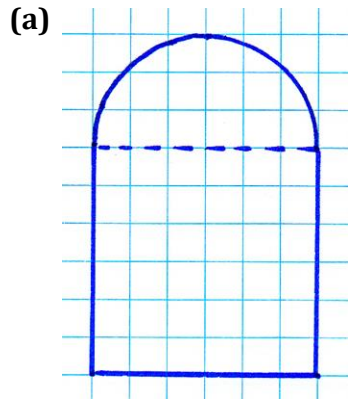
Adatok:

(d) Írd fel, hogyan számítanád ki egy r sugarú negyed kör területét!

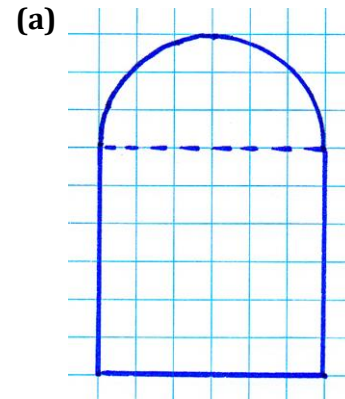
(d) Írd fel, hogyan számítanád ki egy r sugarú negyed kör területét!

(2) A szükséges adatok megmérése után számítsd ki a következő síkidomoknak a **területét** és a **kerületét**! (Egy négyzetoldal = 0,5 cm.)

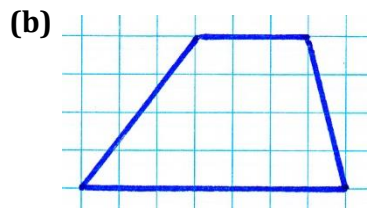
(2) A szükséges adatok megmérése után számítsd ki a következő síkidomoknak a **területét** és a **kerületét**! (Egy négyzetoldal = 0,5 cm.)



Adatok:

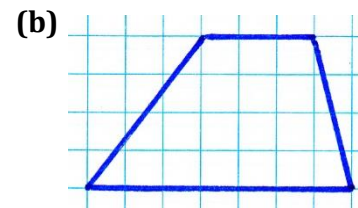


Adatok:



A sokszög **neve**:

Adatok:



A sokszög **neve**:

Adatok: