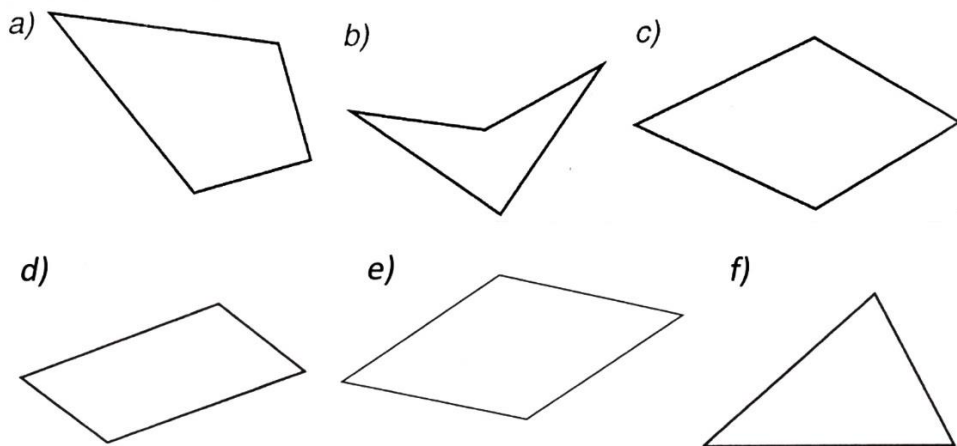
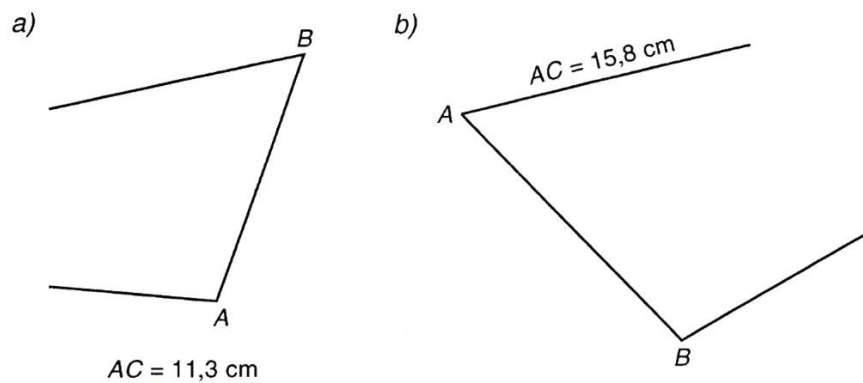


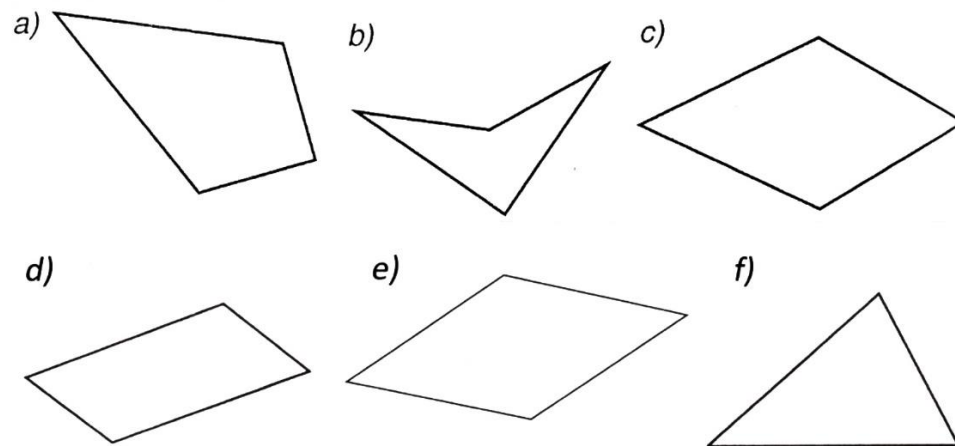
1. A szükséges adatok beszerkesztése és megmérése után számítsd ki az alábbi sokszögek kerületét és területét!



2. A következő két háromszög C csúcsa nem fért rá lapra, de a szükséges adat beszerkeszhető, így annak megmérése után kiszámítható a háromszög területe. Nosza ... számítsd ki ;)



1. A szükséges adatok beszerkesztése és megmérése után számítsd ki az alábbi sokszögek kerületét és területét!



2. A következő két háromszög C csúcsa nem fért rá lapra, de a szükséges adat beszerkeszhető, így annak megmérése után kiszámítható a háromszög területe. Nosza ... számítsd ki ;)

