

TÉMA: Tengelyes tükrözés

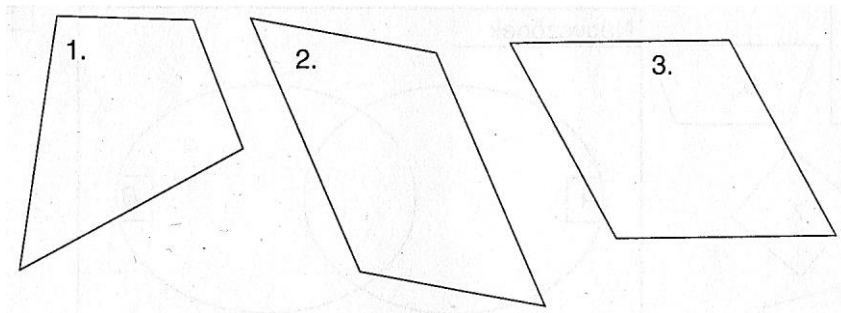
(1) A tengelyes tükrözés fogalma!

.....
.....

(2) A tengelyes tükrözés tulajdonságai.

.....
.....
.....
.....
.....
.....
.....

(3) Rajzold meg az alakzatok szimmetriatengelyeit! Ha nincs szimmetriatengelye, akkor írd bele egy **N** betűt!



TÉMA: Tengelyes tükrözés

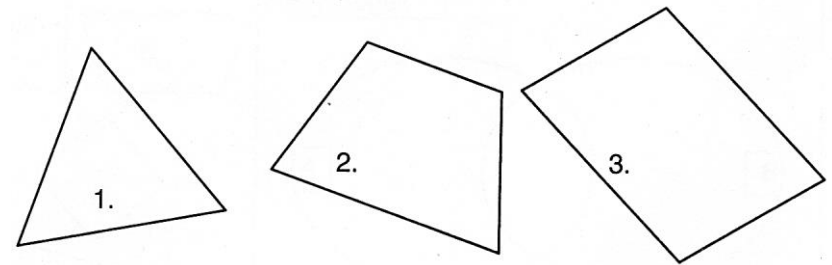
(1) Hogyan adható meg egy tengelyes tükrözés?

.....
.....

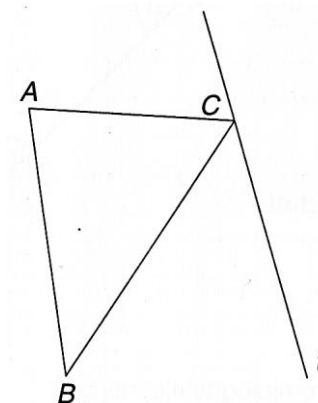
(2) Mikor tengelyesen szimmetrikus egy alakzat (fogalom)?

.....
.....
.....

(3) Rajzold meg az alakzatok szimmetriatengelyeit! Ha nincs szimmetriatengelye, akkor írd bele egy **N** betűt!



(4) Szerkeszd meg a háromszög tengelyes tükörképét!



(4) Szerkeszd meg a háromszög tengelyes tükörképét!

